



# केन्द्रीय रिजर्व पुलिस बल CENTRAL RESERVE POLICE FORCE

Test Date	22/02/2023
Test Time	9:00 AM - 10:30 AM
Subject	Head Constable Ministerial

Section : Hindi Language

Q.1 निम्नलिखित विकल्पों में से 'निंदनीय' शब्द के विपर्याय का चयन करें:

- Ans
- A. श्लथनीय
  - B. पूजनीय
  - C. अश्रवणीय
  - D. श्लाघनीय



Question ID : 630680173051

Status : Answered

Chosen Option : D

Q.2 'घड़ी में घर जले, नौ घड़ी भद्रा'

इस लोकोक्ति के उचित अर्थ का चयन करें |

- Ans
- A. किसी का नुकसान हो रहा हो और दूसरे फ़ालतू लोग उसका लाभ उठायें
  - B. हर काम शुभ घड़ी में करने को कहकर आवश्यक कार्य के लिए भी टालमटोल करते हुए संकट के समय होशियारी से काम न लेना
  - C. अनायास मिलते हुए धन और सुख सुविधा को छोड़ना
  - D. कोई काम जब आसानी से हो रहा हो तब न करके बाद में कष्ट सहकर उसे करना

Question ID : 630680173065

Status : Answered

Chosen Option : B

Q.3 निम्न वाक्यों में से सामान्य वर्तमान काल के वाक्य का चयन कीजिए:

- Ans  A. मैं शास्त्रीय संगीत तल्लीनता से सुनती हूँ।  
 B. मैंने यह पुस्तक पढ़ी है।  
 C. सावंत अभी आ रहा है।  
 D. उसने वर्ष पर्यंत परिश्रम किया है।

Question ID : 630680173106  
Status : Answered  
Chosen Option : C

Q.4 'वर्तमान समय में समाज का कोरा दर्पण साहित्य नहीं है वरन् वह उसे ले भी जाता है प्रगति की ओर।

उपरोक्त वाक्य के शुद्ध रूप का चयन करें।

- Ans  A. वर्तमान समय में वरन् वह उसे प्रगति की ओर भी ले जाता है कोरा दर्पण नहीं साहित्य समाज का है।  
 B. वर्तमान समय में साहित्य समाज का कोरा दर्पण नहीं है वरन् वह उसे प्रगति की ओर भी ले जाता है।  
 C. साहित्य कोरा दर्पण नहीं है समाज का वरन् वर्तमान समय में वह उसे प्रगति की ओर भी ले जाता है।  
 D. समाज का कोरा दर्पण वर्तमान समय में साहित्य नहीं है वरन् वह उसे प्रगति की ओर भी ले जाता है।

Question ID : 630680173069  
Status : Answered  
Chosen Option : B

Q.5 निम्नलिखित में से किस वाक्य में दिशावाचक सम्बन्धबोधक अव्यय का प्रयोग किया गया है?

- Ans  A. वह एक सप्ताह बाद आया।  
 B. वह मेरी ओर आ रही है।  
 C. तुम्हारे अतिरिक्त यहाँ कोई नहीं है।  
 D. मेरे बदले तुम चले जाओ।

Question ID : 630680173113  
Status : Answered  
Chosen Option : B

Q.6 निम्नलिखित वाक्य के किस शब्द की वर्तनी अशुद्ध है?

'इसका प्रमुख कारण अनुसाशनहीनता ही थी'

- Ans  A. कारण  
 B. प्रमुख  
 C. अनुसाशनहीनता  
 D. इसका

Question ID : 630680173052  
Status : Answered  
Chosen Option : C

Q.7 रिक्त स्थान की पूर्ति के लिए उचित शब्द- का चयन करें:

ईमानदारी किसी भी व्यवसाय \_\_\_\_\_ है।

- Ans  A. का आधार  
 B. की नींव  
 C. की बढ़त  
 D. की रीढ़

Question ID : 630680173077

Status : Answered

Chosen Option : A

Q.8 निम्नलिखित में से अधिकरण कारक युक्त वाक्य का चयन कीजिये:

- Ans  A. हिमाचल में बहुत शांति है।  
 B. तुम बगिया को साफ़ करो।  
 C. मैं तुमसे निवेदन कर रहा था।  
 D. मधुर गुरूजी से नृत्य सीख रहा है।

Question ID : 630680173119

Status : Answered

Chosen Option : A

Q.9 निम्नलिखित वाक्य-खण्डों के शुद्ध क्रम में व्यवस्थित वाक्य का चयन करें:

भारत माता के पैरों में,  
बेड़ियाँ पड़ी रहीं,  
कई सौ वर्षों तक,  
पराधीनता की,

- Ans  A. बेड़ियाँ पड़ी रहीं भारत माता के पैरों में पराधीनता की कई सौ वर्षों तक  
 B. कई सौ वर्षों तक भारत माता के पैरों में पराधीनता की बेड़ियाँ पड़ी रहीं  
 C. बेड़ियाँ पड़ी रहीं पराधीनता की कई सौ वर्षों तक भारत माता के पैरों में  
 D. पराधीनता की बेड़ियाँ पड़ी रहीं कई सौ वर्षों तक भारत माता के पैरों में

Question ID : 630680173095

Status : Answered

Chosen Option : B

Q.10 निम्नलिखित में से किस विकल्प के दोनों शब्द आपस में पर्यायवाची हैं?

- Ans  A. निघंटु - अभागा  
 B. अभय - कूर  
 C. नितांत - निरंतर  
 D. निषंग - तूणीर

Question ID : 630680173044

Status : Answered

Chosen Option : C

Q.11 निम्नलिखित वाक्यों में से किस विकल्प में वाक्य-विन्यास शुद्ध है?

- Ans  A. दूसरों के लिए जीने में ही सच्चा आनंद और सुख है जीवन का।  
 B. निराला और महादेवी के काव्य में गीति का सुन्दर विधान है।  
 C. सच्चा जीवन ही है जीना साहस और आत्मविश्वास के साथ।  
 D. मानस-सिन्धु में उठने वाली स्मृति-तरंगों एक सन्देश अपनी भाषा में दे जाती हैं हमें।

Question ID : 630680173068

Status : Not Answered

Chosen Option : --

Q.12 शुद्ध पदक्रम में लिखे गए वाक्य का चयन करें:

- Ans  A. कमीज खो गयी है मेरी कहीं सफ़ेद वाली |  
 B. कहीं खो गयी है मेरी सफ़ेद वाली कमीज़ |  
 C. मेरी कमीज कहीं सफ़ेद वाली खो गयी है |  
 D. मेरी सफ़ेद वाली कमीज कहीं खो गयी है |

Question ID : 630680173088

Status : Answered

Chosen Option : D

Q.13 निम्नलिखित वाक्यों में से शुद्ध वाक्य-विन्यास वाला विकल्प ज्ञात करें:

- Ans  A. आदमी को एक ही काम पर अपना ध्यान और परिश्रम केंद्रित करना चाहिए।  
 B. दीवार बालू की बनी आज गिर कल जाएगी।  
 C. अपूर्ण आदमी हो तो ज्ञान अपनी विद्वता झाड़ता रहता है।  
 D. नदियाँ समुद्र में लेकिन उछलती हैं तो गंभीरता होती है।

Question ID : 630680173074

Status : Answered

Chosen Option : A

Q.14 किस वाक्य में 'बातिल करना' मुहावरे का उचित प्रयोग हुआ है?

- Ans  A. इतनी खुशी की खबर सुना कर तुमने मेरा दिल बातिल कर दिया  
 B. उसे अपने साथ बातिल किये रखना, मैं अभी आती हूँ  
 C. तुमने तो सब काम बातिल कर डाला, अब कुछ नहीं हो सकता  
 D. तुम तो केवल सबकी बात को बातिल करना जानते हो, खुद हवाई किले बनाते रहते हो

Question ID : 630680173062

Status : Answered

Chosen Option : D

Q.15 निम्न में से संदिग्ध वर्तमान काल के वाक्य का चयन कीजिए:

- Ans  A. मैं सप्ताह में एक दिन व्यायाम से अवकाश लेती हूँ |  
 B. वह सोने की तैयारी कर रहा है |  
 C. अत्यधिक स्नेह से बच्चे बिगड़ जाते हैं |  
 D. दिल्ली में बहुत बरसात होती होगी।

Question ID : 630680173108

Status : Answered

Chosen Option : C

Q.16 निम्नलिखित में से किस वाक्य में पूर्वकालिक क्रिया है?

- Ans  A. सब काम मुझे करना पड़ता है।  
 B. उसने खेलकर खाना खाया।  
 C. पैदल चलना स्वास्थ्य के लिए हितकर है।  
 D. तुम चल सकते हो।

Question ID : 630680173123

Status : Answered

Chosen Option : B

Q.17 निम्नलिखित वाक्यों में एक प्रचलित कहावत के शुद्ध वाक्य-विन्यास वाले विकल्प का चयन करें:

- Ans  A. नीर-क्षीर बिन राजहंस अलगाव को करे  
 B. राजहंस बिन को करे नीर-क्षीर अलगाव  
 C. नीर-क्षीर अलगाव राजहंस बिन को करे  
 D. राजहंस बिन नीर-क्षीर अलगाव को करे

Question ID : 630680173073

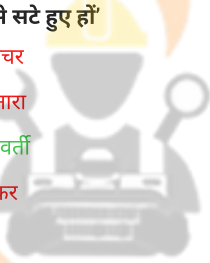
Status : Not Answered

Chosen Option : --

Q.18 निम्नलिखित वाक्य-खंड को एक उपयुक्त शब्द से बदलें।

'जो किनारे से सटे हुए हों'

- Ans  A. थलचर  
 B. किनारा  
 C. तटवर्ती  
 D. तस्कर



INDIA

Question ID : 630680173096

Status : Answered

Chosen Option : C

Q.19 रेखांकित वाक्यांश को एक उपयुक्त शब्द से प्रतिस्थापित करें:

'यह दूसरों की बुराई खोजने वाला व्यक्ति है।'

- Ans  A. बोधगम्य  
 B. परछिन्दान्वेषी  
 C. निष्काम  
 D. पिष्टपेषण

Question ID : 630680173103

Status : Answered

Chosen Option : B

Q.20 'यह सब उदाहरण देने का तात्पर्य यह है कि प्रयोजनमुलक भाषा की अपनी विशिष्टता है जिसमें अलग से दक्षता प्राप्त करनी पड़ती है।'

इस वाक्य के किस भाग में वर्तनी की अशुद्धि है?

- Ans
- A. प्राप्त करनी पड़ती है
  - B. जिसमें अलग से दक्षता
  - C. कि प्रयोजनमुलक भाषा की अपनी विशिष्टता है
  - D. यह सब उदाहरण देने का तात्पर्य यह है

Question ID : 630680173057

Status : Answered

Chosen Option : B

### Comprehension:

'शिक्षा प्राप्ति के उद्देश्य से विद्यालय, महाविद्यालय और विश्वविद्यालय में प्रवेश लेने वालों को छात्र या छात्रा की संज्ञा दी जाती है। ये सभी ज्ञान के साथ-साथ जीविकोपार्जन में सहायक ज्ञान भी प्राप्त करना चाहते हैं। विद्या और जीविका को पाने के उद्देश्य से उत्साह पूर्वक आने वाले इन छात्रों को गंभीर होकर पढ़ाई-लिखाई में लग जाना चाहिए, किंतु बहुत बार ऐसा हो नहीं पाता। वे कुछ दिनों बाद निरुत्साहित और निरुद्देश्य से भटकते दिखाई देने लगते हैं, उनमें असंतोष पनपने लगता है। शिक्षा का संबंध जीविका से बहुत अधिक जुड़ा हुआ है। अधिकतर विद्यार्थी जीविका पाने के उद्देश्य से शिक्षा प्राप्त करते हैं। इसलिए जब उन्हें अनुकूल शिक्षा नहीं मिल पाती या उचित शिक्षा नहीं मिल पाती तो उनमें आक्रोश पनपने लगता है। जिसे वे जिस-तिस रूप में व्यक्त करने लगते हैं। प्राचीन काल में शिक्षा व्यवसाय से जुड़ी हुई थी। अपने-अपने रुचि-कर्म के अनुसार सभी को शिक्षा दी जाती थी। परंतु आज अधिकांश विद्यार्थी बिना सोचे-समझे शिक्षा लेकर महाविद्यालय से बाहर आकर बेरोजगारों की पंक्ति में आ खड़े होते हैं। उनको देखकर अन्य छात्रों को अपने अनिश्चित भविष्य का भय घेरने लगता है और वह उन्हें कुछ कर गुजरने के लिए प्रेरित करता है। आज के व्यस्त, आपाधापी और स्वार्थी समाज में नैतिक गिरावट भी असंतोष बढ़ाने में सहायक है। जीवन और समाज के सभी क्षेत्रों में अनैतिकता और भ्रष्टाचार का बोलबाला साफ दिखाई दे रहा है। छात्र देख रहे हैं कि अयोग्य और अपात्र व्यक्ति अन्य राहों से प्रवेश पा रहे हैं, प्रगति करते जा रहे हैं और शक्ति प्राप्त कर रहे हैं और उनकी ओर वक्र मुस्कुराहट फेंक रहे हैं, तो उनकी कसमसाहट अनेक प्रकार से फूट पड़ती है।'

### SubQuestion No : 21

Q.21 उपर्युक्त गद्यांश के उचित सारांश का चयन कीजिये जिसमें सारांश- लेखन के आवश्यक गुण मौजूद हों।

- Ans
- A. शिक्षा का संबंध जीविका से बहुत अधिक जुड़ा हुआ है। आजीविका न मिल पाने से उनको उचित मार्गदर्शन नहीं मिलता, उनमें असंतोष पनपने लगता है और उनका स्थान खो जाता है।
  - B. आज के समय में विद्यार्थी ज्ञान के साथ-साथ जीविकोपार्जन के लिए ज्ञान प्राप्त करना चाहते हैं। इसके लिए वे बड़े उत्साह से शिक्षा संस्थानों में प्रवेश लेते हैं। किन्तु जब उनका यह उद्देश्य पूर्ण होता नहीं दिखायी देता तब उनमें असंतोष पनपने लगता है। इस कसमसाहट के कई कारण हैं। संस्थानों में प्रवेश लेते समय वे उचित मार्गदर्शन नहीं लेते और किसी भी कोर्स में प्रवेश ले लेते हैं, अपनी रुचि और इच्छा के अनुसार शिक्षा न मिल पाने से वे उत्साह खो देते हैं। अनैतिकता और भ्रष्टाचार के कारण अपात्रों की प्रगति से भविष्य का भय उन्हें घेरने लगता है और उनमें असंतोष भर उठता है।
  - C. उचित ज्ञान न होने से विद्यार्थी को शिक्षा संस्थानों में प्रवेश नहीं मिल पाता जिसके कारण उनमें कुंठा पनपती है। फिर वे कहीं भी काम नहीं कर सकते और असंतुष्ट हो जाते हैं।
  - D. विद्यार्थी जीविकोपार्जन के लिए ज्ञान प्राप्त करना चाहते हैं। लेकिन शिक्षा संस्थानों में उनको ऐसी कोई शिक्षा नहीं मिल पाती जिससे उन्हें जीविकोपार्जन में मदद मिले। उनको सब जगह व्याप्त भ्रष्टाचार के कारण नौकरी भी नहीं मिलती। इसलिए उनमें बहुत असंतोष हो जाता है और वे गलत राह पर चल देते हैं।

Question ID : 630680173141

Status : Answered

Chosen Option : B

### Comprehension:

'शिक्षा प्राप्ति के उद्देश्य से विद्यालय, महाविद्यालय और विश्वविद्यालय में प्रवेश लेने वालों को छात्र या छात्रा की संज्ञा दी जाती है। ये सभी ज्ञान के साथ-साथ जीविकोपार्जन में सहायक ज्ञान भी प्राप्त करना चाहते हैं। विद्या और जीविका को पाने के उद्देश्य से उत्साह पूर्वक आने वाले इन छात्रों को गंभीर होकर पढ़ाई-लिखाई में लग जाना चाहिए, किंतु बहुत बार ऐसा हो नहीं पाता। वे कुछ दिनों बाद निरुत्साहित और निरुद्देश्य से भटकते दिखाई देने लगते हैं, उनमें असंतोष पनपने लगता है। शिक्षा का संबंध जीविका से बहुत अधिक जुड़ा हुआ है। अधिकतर विद्यार्थी जीविका पाने के उद्देश्य से शिक्षा प्राप्त करते हैं। इसलिए जब उन्हें अनुकूल शिक्षा नहीं मिल पाती या उचित शिक्षा नहीं मिल पाती तो उनमें आक्रोश पनपने लगता है। जिसे वे जिस-तिस रूप में व्यक्त करने लगते हैं। प्राचीन काल में शिक्षा व्यवसाय से जुड़ी हुई थी। अपने-अपने रुचि-कर्म के अनुसार सभी को शिक्षा दी जाती थी। परंतु आज अधिकांश विद्यार्थी बिना सोचे-समझे शिक्षा लेकर महाविद्यालय से बाहर आकर बेरोजगारों की पंक्ति में आ खड़े होते हैं। उनको देखकर अन्य छात्रों को अपने अनिश्चित भविष्य का भय घेरने लगता है और वह उन्हें कुछ कर गुजरने के लिए प्रेरित करता है। आज के व्यस्त, आपाधापी और स्वार्थी समाज में नैतिक गिरावट भी असंतोष बढ़ाने में सहायक है। जीवन और समाज के सभी क्षेत्रों में अनैतिकता और भ्रष्टाचार का बोलबाला साफ दिखाई दे रहा है। छात्र देख रहे हैं कि अयोग्य और अपात्र व्यक्ति अन्य राहों से प्रवेश पा रहे हैं, प्रगति करते जा रहे हैं और शक्ति प्राप्त कर रहे हैं और उनकी ओर वक्र मुस्कुराहट फेंक रहे हैं, तो उनकी कसमसाहट अनेक प्रकार से फूट पड़ती है।'

### SubQuestion No : 22

Q.22 किस वाक्य में, 'अनुकूल' शब्द का उचित प्रयोग किया गया है?

- Ans  A. यह संस्थान मेरी रुचि के अनुकूल नहीं है।  
 B. यह अनुकूल टोकरी मेरी पसंद की है।  
 C. चलो! आज तो यह विद्यालय अनुकूल हो गया।  
 D. आज का काम तुम अनुकूल कर लो।

Question ID : 630680173140

Status : Answered

Chosen Option : A

### Comprehension:

'शिक्षा प्राप्ति के उद्देश्य से विद्यालय, महाविद्यालय और विश्वविद्यालय में प्रवेश लेने वालों को छात्र या छात्रा की संज्ञा दी जाती है। ये सभी ज्ञान के साथ-साथ जीविकोपार्जन में सहायक ज्ञान भी प्राप्त करना चाहते हैं। विद्या और जीविका को पाने के उद्देश्य से उत्साह पूर्वक आने वाले इन छात्रों को गंभीर होकर पढ़ाई-लिखाई में लग जाना चाहिए, किंतु बहुत बार ऐसा हो नहीं पाता। वे कुछ दिनों बाद निरुत्साहित और निरुद्देश्य से भटकते दिखाई देने लगते हैं, उनमें असंतोष पनपने लगता है। शिक्षा का संबंध जीविका से बहुत अधिक जुड़ा हुआ है। अधिकतर विद्यार्थी जीविका पाने के उद्देश्य से शिक्षा प्राप्त करते हैं। इसलिए जब उन्हें अनुकूल शिक्षा नहीं मिल पाती या उचित शिक्षा नहीं मिल पाती तो उनमें आक्रोश पनपने लगता है। जिसे वे जिस-तिस रूप में व्यक्त करने लगते हैं। प्राचीन काल में शिक्षा व्यवसाय से जुड़ी हुई थी। अपने-अपने रुचि-कर्म के अनुसार सभी को शिक्षा दी जाती थी। परंतु आज अधिकांश विद्यार्थी बिना सोचे-समझे शिक्षा लेकर महाविद्यालय से बाहर आकर बेरोजगारों की पंक्ति में आ खड़े होते हैं। उनको देखकर अन्य छात्रों को अपने अनिश्चित भविष्य का भय घेरने लगता है और वह उन्हें कुछ कर गुजरने के लिए प्रेरित करता है। आज के व्यस्त, आपाधापी और स्वार्थी समाज में नैतिक गिरावट भी असंतोष बढ़ाने में सहायक है। जीवन और समाज के सभी क्षेत्रों में अनैतिकता और भ्रष्टाचार का बोलबाला साफ दिखाई दे रहा है। छात्र देख रहे हैं कि अयोग्य और अपात्र व्यक्ति अन्य राहों से प्रवेश पा रहे हैं, प्रगति करते जा रहे हैं और शक्ति प्राप्त कर रहे हैं और उनकी ओर वक्र मुस्कुराहट फेंक रहे हैं, तो उनकी कसमसाहट अनेक प्रकार से फूट पड़ती है।'

### SubQuestion No : 23

Q.23 गद्यांश के अनुसार छात्रों में असंतोष के क्या कारण हैं?

- Ans  A. जीविका के साधनों की कमी, शिक्षा-साधनों की कमी  
 B. कुछ कर गुजरने की प्रबल इच्छा, आपाधापी और स्वार्थी समाज  
 C. भविष्य का भय, मार्गदर्शन की कमी, अनैतिकता और भ्रष्टाचार  
 D. अयोग्य व्यक्ति की वक्र मुस्कुराहट और उनकी नैतिक गिरावट

Question ID : 630680173138

Status : Answered

Chosen Option : C

### Comprehension:

'शिक्षा प्राप्ति के उद्देश्य से विद्यालय, महाविद्यालय और विश्वविद्यालय में प्रवेश लेने वालों को छात्र या छात्रा की संज्ञा दी जाती है। ये सभी ज्ञान के साथ-साथ जीविकोपार्जन में सहायक ज्ञान भी प्राप्त करना चाहते हैं। विद्या और जीविका को पाने के उद्देश्य से उत्साह पूर्वक आने वाले इन छात्रों को गंभीर होकर पढ़ाई-लिखाई में लग जाना चाहिए, किंतु बहुत बार ऐसा हो नहीं पाता। वे कुछ दिनों बाद निरुत्साहित और निरुद्देश्य से भटकते दिखाई देने लगते हैं, उनमें असंतोष पनपने लगता है। शिक्षा का संबंध जीविका से बहुत अधिक जुड़ा हुआ है। अधिकतर विद्यार्थी जीविका पाने के उद्देश्य से शिक्षा प्राप्त करते हैं। इसलिए जब उन्हें अनुकूल शिक्षा नहीं मिल पाती या उचित शिक्षा नहीं मिल पाती तो उनमें आक्रोश पनपने लगता है। जिसे वे जिस-तिस रूप में व्यक्त करने लगते हैं। प्राचीन काल में शिक्षा व्यवसाय से जुड़ी हुई थी। अपने-अपने रुचि-कर्म के अनुसार सभी को शिक्षा दी जाती थी। परंतु आज अधिकांश विद्यार्थी बिना सोचे-समझे शिक्षा लेकर महाविद्यालय से बाहर आकर बेरोजगारों की पंक्ति में आ खड़े होते हैं। उनको देखकर अन्य छात्रों को अपने अनिश्चित भविष्य का भय घेरने लगता है और वह उन्हें कुछ कर गुजरने के लिए प्रेरित करता है। आज के व्यस्त, आपाधापी और स्वार्थी समाज में नैतिक गिरावट भी असंतोष बढ़ाने में सहायक है। जीवन और समाज के सभी क्षेत्रों में अनैतिकता और भ्रष्टाचार का बोलबाला साफ दिखाई दे रहा है। छात्र देख रहे हैं कि अयोग्य और अपात्र व्यक्ति अन्य राहों से प्रवेश पा रहे हैं, प्रगति करते जा रहे हैं और शक्ति प्राप्त कर रहे हैं और उनकी ओर वक्र मुस्कुराहट फेंक रहे हैं, तो उनकी कसमसाहट अनेक प्रकार से फूट पड़ती है।'

### SubQuestion No : 24

Q.24 गद्यांश से किन तथ्यों का पता चलता है?

- Ans  A. गद्यांश में यह तथ्य निहित है कि शिक्षा-संस्थानों में प्रवेश के लिए शिक्षार्थियों को उचित मार्गदर्शन और आवश्यक रूप से नैतिकता की शिक्षा मिलनी चाहिए
- B. समाज में बेरोजगारी की समस्या नहीं है, यह पता चलता है
- C. इस तथ्य का पता चलता है कि केवल अयोग्य और अपात्र व्यक्ति भ्रष्टाचार से जीविकोपार्जन में सक्षम हो रहे हैं, अन्य सभी योग्य व्यक्ति बेरोजगार हैं
- D. गद्यांश में यह तथ्य निहित है कि शिक्षा ग्रहण के पश्चात् छात्र अर्थार्जन में अयोग्य ही हो जाते हैं

Question ID : 630680173139

Status : Answered

Chosen Option : C

### Comprehension:

'शिक्षा प्राप्ति के उद्देश्य से विद्यालय, महाविद्यालय और विश्वविद्यालय में प्रवेश लेने वालों को छात्र या छात्रा की संज्ञा दी जाती है। ये सभी ज्ञान के साथ-साथ जीविकोपार्जन में सहायक ज्ञान भी प्राप्त करना चाहते हैं। विद्या और जीविका को पाने के उद्देश्य से उत्साह पूर्वक आने वाले इन छात्रों को गंभीर होकर पढ़ाई-लिखाई में लग जाना चाहिए, किंतु बहुत बार ऐसा हो नहीं पाता। वे कुछ दिनों बाद निरुत्साहित और निरुद्देश्य से भटकते दिखाई देने लगते हैं, उनमें असंतोष पनपने लगता है। शिक्षा का संबंध जीविका से बहुत अधिक जुड़ा हुआ है। अधिकतर विद्यार्थी जीविका पाने के उद्देश्य से शिक्षा प्राप्त करते हैं। इसलिए जब उन्हें अनुकूल शिक्षा नहीं मिल पाती या उचित शिक्षा नहीं मिल पाती तो उनमें आक्रोश पनपने लगता है। जिसे वे जिस-तिस रूप में व्यक्त करने लगते हैं। प्राचीन काल में शिक्षा व्यवसाय से जुड़ी हुई थी। अपने-अपने रुचि-कर्म के अनुसार सभी को शिक्षा दी जाती थी। परंतु आज अधिकांश विद्यार्थी बिना सोचे-समझे शिक्षा लेकर महाविद्यालय से बाहर आकर बेरोजगारों की पंक्ति में आ खड़े होते हैं। उनको देखकर अन्य छात्रों को अपने अनिश्चित भविष्य का भय घेरने लगता है और वह उन्हें कुछ कर गुजरने के लिए प्रेरित करता है। आज के व्यस्त, आपाधापी और स्वार्थी समाज में नैतिक गिरावट भी असंतोष बढ़ाने में सहायक है। जीवन और समाज के सभी क्षेत्रों में अनैतिकता और भ्रष्टाचार का बोलबाला साफ दिखाई दे रहा है। छात्र देख रहे हैं कि अयोग्य और अपात्र व्यक्ति अन्य राहों से प्रवेश पा रहे हैं, प्रगति करते जा रहे हैं और शक्ति प्राप्त कर रहे हैं और उनकी ओर वक्र मुस्कुराहट फेंक रहे हैं, तो उनकी कसमसाहट अनेक प्रकार से फूट पड़ती है।'

### SubQuestion No : 25

Q.25 आज के समय में विद्यार्थी के लिए शिक्षा प्राप्ति का मूल उद्देश्य क्या है?

सर्वोचित विकल्प का चयन करें।

- Ans  A. उच्च ज्ञानार्जन करना
- B. ज्ञानार्जन के साथ-साथ जीविकोपार्जन के साधन प्राप्त करना
- C. व्यवसायिक ज्ञान-प्राप्ति
- D. नैतिक गिरावट और असंतोष को नष्ट करना

Question ID : 630680173137

Status : Answered

Chosen Option : B



Q.1 Select the most appropriate meaning of the given proverb.

Every cloud has a silver lining.

- Ans  A. Everything superficial has a deeper meaning associated with it which needs to be unravelled.
- B. Nature is the most beautiful aspect of human life, which is usually not given much importance.
- C. No matter what difficult situation you're in, there is always a positive side to be seen.
- D. To be useful to the needy without thinking selfishly about oneself all the time.

Question ID : 630680172954  
Status : Not Answered  
Chosen Option : --

Q.2 Fill in the blank with the correct option.

This is \_\_\_\_ book and I am reading it now.

- Ans  A. ours
- B. mine
- C. my
- D. hers

Question ID : 630680172997  
Status : Not Answered  
Chosen Option : --

Q.3 Select the most appropriate option to fill in the blanks.

The forced \_\_\_\_ of the community from the valley is \_\_\_\_.

- Ans  A. acceptance; lamentable
- B. exodus; deplorable
- C. salutation; reprehensible
- D. ovation; regrettable

INDIA

Question ID : 630680172995  
Status : Not Answered  
Chosen Option : --

Q.4 Select the most appropriate option to fill in the blank.

She \_\_\_\_ chess the whole day yesterday.

- Ans  A. has been playing
- B. plays
- C. had been playing
- D. is playing

Question ID : 630680173018  
Status : Not Answered  
Chosen Option : --

Q.5 Select the option that has a spelling error.

- Ans  A. A mammoth rally was held to protest against the crime.  
 B. His mother prayed for his longevity when he fell ill.  
 C. Orthodox people are victims of myopic views about life.  
 D. The kernel of the fruit is always tasty.

Question ID : 630680172956  
Status : Not Answered  
Chosen Option : --

Q.6 The following extract has errors in syntax/structure. Select the option that gives the correct alternative.

That is part of what happened in the Yellow Sea, where pollution is unchecked. It is the birthplace of a maroon jellyfish that have been reaching a weight of 500 pounds. Blooms of the creature were a once-a-generation event, the kind of thing that fishermen mentioned to their sons.

- Ans  A. the kind of thing that fishermen have mentioned to their sons.  
 B. Blooms of the creature is being a once-a-generation event,  
 C. It is the birthplace of a maroon jellyfish that reaches a weight of 500 pounds.  
 D. That is part of what happened in the Yellow Sea, where pollution is unchecking.

Question ID : 630680172965  
Status : Not Answered  
Chosen Option : --

Q.7 Choose the sentence which has a spelling error.

- Ans  A. The precocious children need careful bringing up by their parents.  
 B. Neither of the two brothers is ready to relinquish his claims to the paternal property.  
 C. Everybody admires her because she is the quintessence of benevolence.  
 D. They were afraid that the problem will have serious repurcussion on the country's politics and economy.

Question ID : 630680172962  
Status : Not Answered  
Chosen Option : --

Q.8 Choose the option with the correct words to fill in the blanks.

Our expectations and \_\_\_\_\_ may, however, blind us to what the article and its author is actually saying. If, for example, we are used to \_\_\_\_\_ with the author, we may see only what we expect to see and not what is actually there. Day after day in our routine \_\_\_\_\_ of life, we expose ourselves to the same newspaper.

- Ans  A. stabilities, agreeing, power  
 B. demotivation, complying, manual  
 C. apprehensions, arguing, phase  
 D. predispositions, disagreeing, pattern

Question ID : 630680172979  
Status : Not Answered  
Chosen Option : --

Q.9 Select the most appropriate option to fill in the blank.

Vishal \_\_\_\_\_ intended to set up his own business but could not.

- Ans  A. was  
 B. is  
 C. had  
 D. has

Question ID : 630680173015  
Status : Not Answered  
Chosen Option : --

Q.10 Select the most appropriate article to fill in the blank.  
\_\_\_\_\_ Shylock is living in my neighbourhood.

- Ans  A. An  
 B. The  
 C. Few  
 D. A

Question ID : 630680173008  
Status : Not Answered  
Chosen Option : --

Q.11 Select the most appropriate ANTONYM of the given word.

Corpulent

- Ans  A. Slight  
 B. Obese  
 C. Blimp  
 D. Awkward

INDIA

Question ID : 630680172941  
Status : Not Answered  
Chosen Option : --

Q.12 Select the most appropriate option to fill in the blanks.

He \_\_\_\_\_ 17 eggs, and for 35 seconds the audience began to think that he was wonderful. Then the quick man \_\_\_\_\_ along the front bench, "He has a hen up his sleeve," and all the people nodded their heads and said, "He has a lot of hens up his sleeve." The egg trick was \_\_\_\_\_.

- Ans  A. constructed; shouted; abused  
 B. extracted; whispered; ruined  
 C. abandoned; declared; molested  
 D. deserted; flashed; harassed

Question ID : 630680172973  
Status : Not Answered  
Chosen Option : --

Q.13 The following extract has error in syntax/structure. Choose the option that gives the correct alternative.

Omnivores have an advantage in an ecosystem because their diet is the most diverse. These animals can vary their diet depending on the food that is most plentiful, sometimes eating plants and other times eating meat. Herbivores having most different digestive systems than omnivores, so omnivores usually are cannot eat all of the plants that an herbivore can. Generally, omnivores eat fruits and vegetables freely, but they can't eat grasses and some grains due to digestive limitations.

- Ans  A. Generally, omnivores eat fruits and vegetables freely, but they can't eat grasses and some grains due to digestive limitations.
- B. Herbivores have different digestive systems than omnivores, so omnivores usually cannot eat all of the plants that an herbivore can.
- C. These animals can vary their diet depending on the food that is most plentiful, sometimes eating plants and other times eating meat.
- D. Omnivores have an advantage in an ecosystem because their diet is the most diverse.

Question ID : 630680172970

Status : Not Answered

Chosen Option : --

Q.14 Select the most appropriate meaning of the given idiom.

Blaze a trail

- Ans  A. To earn name and fame overnight unexpectedly
- B. To be the first to do something new and important
- C. To be born in a rich family but still being humble
- D. To narrowly escape a danger that would have taken one's life

Question ID : 630680172950

Status : Not Answered

Chosen Option : --

Q.15 Select the most appropriate option to fill in the blanks.

In September 2011, The Hindustan Times did a study in Delhi and reported that the number of malaria cases at the time were actually thrice as many as \_\_\_\_\_ by the city authorities. Earlier, in Mumbai, a municipal claim that 145 people died due to malaria in 2010 was \_\_\_\_\_ a lie after Praja, a city NGO, \_\_\_\_\_ figures from the municipality itself.

- Ans  A. revealed; exposed; extracted
- B. camouflaged; tolerated; calculated
- C. disguised; deliberated; selected
- D. concealed; highlighted; stashed

Question ID : 630680172981

Status : Not Answered

Chosen Option : --

Q.16 Choose the option with the correct words to fill in the blanks.

To eat and not be eaten \_\_\_\_ that's the \_\_\_\_ of a caterpillar's \_\_\_\_ The leaf roller reduces its risks of being picked off by \_\_\_\_ by silking together a temporary shelter in which to feed and rest.

- Ans  A. imperative, existence, predators  
 B. mission, peers, herbivores  
 C. motto, species, carnivores  
 D. vision, purview, cannibals

Question ID : 630680172980  
Status : Not Answered  
Chosen Option : --

Q.17 Select the most appropriate option to fill in the blank.

His doctor asked him to abstain \_\_\_\_ drinking.

- Ans  A. from  
 B. upon  
 C. with  
 D. against

Question ID : 630680173002  
Status : Not Answered  
Chosen Option : --

Q.18 Select the most appropriate option to fill in the blanks.

A country can succeed in war only if its \_\_\_\_ as well as \_\_\_\_ are well stocked.

- Ans  A. granaries; arsenals  
 B. mortuaries; morgues  
 C. menageries; infirmaries  
 D. sculleries; tanneries

Question ID : 630680172991  
Status : Not Answered  
Chosen Option : --

Q.19 Select the most appropriate article to fill in the blank. In case no article is needed, select 'No article required'.

He is \_\_\_\_ LLB student and is aiming to go abroad to pursue further education.

- Ans  A. No article required  
 B. a  
 C. an  
 D. the

Question ID : 630680173011  
Status : Not Answered  
Chosen Option : --

Q.20 Select the most appropriate synonym of the given word.

Poise

- Ans  A. Confusion  
 B. Equanimity  
 C. Frenzy  
 D. Excitement

Question ID : 630680172947

Status : Not Answered

Chosen Option : --

**Comprehension:**

Read the given passage and answer the questions that follow.

When times are hard, doomsayers are aplenty. The problem is that if you listen to them too carefully, you tend to overlook the most obvious signs of change. The year 2011 was bad. Can 2012 be any worse? Doomsday forecasts are the easiest to make these days. So, let's try a contrarian's forecast instead. Let's start with the global economy. We have soon a steady flow of good news from the US. The employment situation seems to be improving rapidly, and consumer sentiment, reflected in retail expenditures on discretionary items like electronics and clothes, has picked up.

If these trends sustain, the US might post better growth numbers for 2012 than the current forecast of 1.5%–1.8%. Japan is likely to pull out of a recession in 2012, as post-earthquake reconstruction efforts gather momentum and the fiscal stimulus announced in 2011 begins to pay off. The consensus estimate for growth in Japan is a respectable 2% for 2012. The 'hard-landing' scenario for China remains and will remain a myth. Growth might decelerate further from the 9% that it is expected to clock in 2011 but is unlikely to drop below 8%–8.5% in 2012. Europe is certainly in a spot of trouble. It is perhaps already in recession, and for 2012, it is likely to post mildly negative growth. The risk of implosion has dwindled over the last few months—peripheral economies like Greece, Italy and Spain have new governments in place and have made progress towards genuine economic reform. Even with some of these positive factors in place, we have to accept the fact that global growth in 2012 will be tepid. But there is a flipside to this. Softer growth means lower demand for commodities, and this is likely to drive a correction in commodity prices. Lower commodity inflation will enable emerging market and central banks to reverse their monetary stance. China, for instance, has already reversed its stance and has pared its reserve ratio twice. The RBI also seems poised for a reversal in its rate cycle as headline inflation seems well on its way to its target of 7% for March 2012.

SubQuestion No : 21

Q.21 Choose the appropriate central theme of the passage from the options given below.

- Ans  A. Comparisons among different countries' 2012 global economic scenario  
 B. A comparative study of the 2011 and 2012 global economy  
 C. Negative aspects of the 2012 global economy  
 D. A deep analysis of the 2012 global economy

Question ID : 630680173033

Status : Not Answered

Chosen Option : --

### Comprehension:

Read the given passage and answer the questions that follow.

When times are hard, doomsayers are aplenty. The problem is that if you listen to them too carefully, you tend to overlook the most obvious signs of change. The year 2011 was bad. Can 2012 be any worse? Doomsday forecasts are the easiest to make these days. So, let's try a contrarian's forecast instead. Let's start with the global economy. We have soon a steady flow of good news from the US. The employment situation seems to be improving rapidly, and consumer sentiment, reflected in retail expenditures on discretionary items like electronics and clothes, has picked up.

If these trends sustain, the US might post better growth numbers for 2012 than the current forecast of 1.5%–1.8%. Japan is likely to pull out of a recession in 2012, as post-earthquake reconstruction efforts gather momentum and the fiscal stimulus announced in 2011 begins to pay off. The consensus estimate for growth in Japan is a respectable 2% for 2012. The 'hard-landing' scenario for China remains and will remain a myth. Growth might decelerate further from the 9% that it is expected to clock in 2011 but is unlikely to drop below 8%–8.5% in 2012. Europe is certainly in a spot of trouble. It is perhaps already in recession, and for 2012, it is likely to post mildly negative growth. The risk of implosion has dwindled over the last few months—peripheral economies like Greece, Italy and Spain have new governments in place and have made progress towards genuine economic reform.

Even with some of these positive factors in place, we have to accept the fact that global growth in 2012 will be tepid. But there is a flipside to this. Softer growth means lower demand for commodities, and this is likely to drive a correction in commodity prices. Lower commodity inflation will enable emerging market and central banks to reverse their monetary stance. China, for instance, has already reversed its stance and has pared its reserve ratio twice. The RBI also seems poised for a reversal in its rate cycle as headline inflation seems well on its way to its target of 7% for March 2012.

SubQuestion No : 22

Q.22 Choose the correct tone of the passage from the options given below.

- Ans
- A. Farcical
  - B. Humorous
  - C. Negative
  - D. Analytical



Question ID : 630680173036

Status : Not Answered

Chosen Option : --

### Comprehension:

Read the given passage and answer the questions that follow.

When times are hard, doomsayers are aplenty. The problem is that if you listen to them too carefully, you tend to overlook the most obvious signs of change. The year 2011 was bad. Can 2012 be any worse? Doomsday forecasts are the easiest to make these days. So, let's try a contrarian's forecast instead. Let's start with the global economy. We have soon a steady flow of good news from the US. The employment situation seems to be improving rapidly, and consumer sentiment, reflected in retail expenditures on discretionary items like electronics and clothes, has picked up.

If these trends sustain, the US might post better growth numbers for 2012 than the current forecast of 1.5%–1.8%. Japan is likely to pull out of a recession in 2012, as post-earthquake reconstruction efforts gather momentum and the fiscal stimulus announced in 2011 begins to pay off. The consensus estimate for growth in Japan is a respectable 2% for 2012. The 'hard-landing' scenario for China remains and will remain a myth. Growth might decelerate further from the 9% that it is expected to clock in 2011 but is unlikely to drop below 8%–8.5% in 2012. Europe is certainly in a spot of trouble. It is perhaps already in recession, and for 2012, it is likely to post mildly negative growth. The risk of implosion has dwindled over the last few months—peripheral economies like Greece, Italy and Spain have new governments in place and have made progress towards genuine economic reform.

Even with some of these positive factors in place, we have to accept the fact that global growth in 2012 will be tepid. But there is a flipside to this. Softer growth means lower demand for commodities, and this is likely to drive a correction in commodity prices. Lower commodity inflation will enable emerging market and central banks to reverse their monetary stance. China, for instance, has already reversed its stance and has pared its reserve ratio twice. The RBI also seems poised for a reversal in its rate cycle as headline inflation seems well on its way to its target of 7% for March 2012.

### SubQuestion No : 23

Q.23 Why is Europe in a 'spot of trouble'?

- Ans
- A. Europe is already going through a phase of recession, which will escalate further in 2012.
  - B. Europe has reversed its strategies and has decreased the ratio of its reserves twice.
  - C. Europe has increased the price of its commodities manifold as compared with that in the earlier years.
  - D. Europe is still recovering from the after effects of the post-earthquake reconstruction efforts.

Question ID : 630680173034

Status : Not Answered

Chosen Option : --



### Comprehension:

Read the given passage and answer the questions that follow.

When times are hard, doomsayers are aplenty. The problem is that if you listen to them too carefully, you tend to overlook the most obvious signs of change. The year 2011 was bad. Can 2012 be any worse? Doomsday forecasts are the easiest to make these days. So, let's try a contrarian's forecast instead. Let's start with the global economy. We have soon a steady flow of good news from the US. The employment situation seems to be improving rapidly, and consumer sentiment, reflected in retail expenditures on discretionary items like electronics and clothes, has picked up.

If these trends sustain, the US might post better growth numbers for 2012 than the current forecast of 1.5%–1.8%. Japan is likely to pull out of a recession in 2012, as post-earthquake reconstruction efforts gather momentum and the fiscal stimulus announced in 2011 begins to pay off. The consensus estimate for growth in Japan is a respectable 2% for 2012. The 'hard-landing' scenario for China remains and will remain a myth. Growth might decelerate further from the 9% that it is expected to clock in 2011 but is unlikely to drop below 8%–8.5% in 2012. Europe is certainly in a spot of trouble. It is perhaps already in recession, and for 2012, it is likely to post mildly negative growth. The risk of implosion has dwindled over the last few months—peripheral economies like Greece, Italy and Spain have new governments in place and have made progress towards genuine economic reform.

Even with some of these positive factors in place, we have to accept the fact that global growth in 2012 will be tepid. But there is a flipside to this. Softer growth means lower demand for commodities, and this is likely to drive a correction in commodity prices. Lower commodity inflation will enable emerging market and central banks to reverse their monetary stance. China, for instance, has already reversed its stance and has pared its reserve ratio twice. The RBI also seems poised for a reversal in its rate cycle as headline inflation seems well on its way to its target of 7% for March 2012.

### SubQuestion No : 24

Q.24 Which word in the passage means 'relating to government revenue, especially taxes'?

- Ans
- A. Forecasts
  - B. Fiscal
  - C. Recession
  - D. Retail



Question ID : 630680173037

Status : Not Answered

Chosen Option : --

### Comprehension:

Read the given passage and answer the questions that follow.

When times are hard, doomsayers are aplenty. The problem is that if you listen to them too carefully, you tend to overlook the most obvious signs of change. The year 2011 was bad. Can 2012 be any worse? Doomsday forecasts are the easiest to make these days. So, let's try a contrarian's forecast instead. Let's start with the global economy. We have soon a steady flow of good news from the US. The employment situation seems to be improving rapidly, and consumer sentiment, reflected in retail expenditures on discretionary items like electronics and clothes, has picked up.

If these trends sustain, the US might post better growth numbers for 2012 than the current forecast of 1.5%–1.8%. Japan is likely to pull out of a recession in 2012, as post-earthquake reconstruction efforts gather momentum and the fiscal stimulus announced in 2011 begins to pay off. The consensus estimate for growth in Japan is a respectable 2% for 2012. The 'hard-landing' scenario for China remains and will remain a myth. Growth might decelerate further from the 9% that it is expected to clock in 2011 but is unlikely to drop below 8%–8.5% in 2012. Europe is certainly in a spot of trouble. It is perhaps already in recession, and for 2012, it is likely to post mildly negative growth. The risk of implosion has dwindled over the last few months—peripheral economies like Greece, Italy and Spain have new governments in place and have made progress towards genuine economic reform. Even with some of these positive factors in place, we have to accept the fact that global growth in 2012 will be tepid. But there is a flipside to this. Softer growth means lower demand for commodities, and this is likely to drive a correction in commodity prices. Lower commodity inflation will enable emerging market and central banks to reverse their monetary stance. China, for instance, has already reversed its stance and has pared its reserve ratio twice. The RBI also seems poised for a reversal in its rate cycle as headline inflation seems well on its way to its target of 7% for March 2012.

### SubQuestion No : 25

Q.25 What may be regarded as a positive aspect of the 2012 US economy as mentioned in the passage?

- Ans
- A. A new government which is making progress in economic reforms
  - B. Steady improvement in the employment scenario
  - C. Doomsayers' positive reports on US economy
  - D. Consumers are no more ready to waste money on discretionary items.

Question ID : 630680173035

Status : Not Answered

Chosen Option : --

### Section : General Aptitude

Q.1 MSMEs के लिए राष्ट्रीय पुरस्कार के तहत, प्रत्येक MSME को कितना नकद पुरस्कार दिया जाता है जिसने स्वदेशी तकनीक पर आधारित उत्पाद का सफलतापूर्वक व्यवसायीकरण किया है?

- Ans
- A. 15 लाख
  - B. 30 लाख
  - C. 20 लाख
  - D. 25 लाख

Question ID : 630680173250

Status : Not Answered

Chosen Option : --

Q.2 अगस्त 2022 के महीने में, राज्य सभा ने परिवार न्यायालय (संशोधन) विधेयक, 2022 पारित किया, जो निम्नलिखित में से किस राज्य में स्थापित परिवार न्यायालयों को वैधानिक कवर प्रदान करता है?

- Ans
- A. मणिपुर
  - B. मिजोरम
  - C. नागालैंड
  - D. सिक्किम

Question ID : 630680173262  
Status : Not Answered  
Chosen Option : --

Q.3 2011 की जनगणना के अनुसार भारत की कुल जनसंख्या में 'अनुसूचित जनजाति' (ST) का प्रतिशत कितना है?

- Ans
- A. 8.6%
  - B. 11.8%
  - C. 9.8%
  - D. 10.8%

Question ID : 630680173255  
Status : Answered  
Chosen Option : A

Q.4 लोक सभा सांसद के रूप में दीर्घकालिक सेवाएं देने वाले सांसदों में से एक इंद्रजीत गुप्ता निम्नलिखित में से किस राजनीतिक दल से संबंधित थे?

- Ans
- A. भारतीय राष्ट्रीय कांग्रेस
  - B. भारतीय जन संघ
  - C. भारतीय कम्युनिस्ट पार्टी
  - D. भारतीय जनता पार्टी

INDIA

Question ID : 630680173343  
Status : Answered  
Chosen Option : B

Q.5 निम्नलिखित में से क्या संघ पोरिफेरा से संबंधित नहीं है?

- Ans
- A. डेमोस्पंज
  - B. ग्लास स्पंज
  - C. स्ट्रोमैटोपोरोइडिया
  - D. सीप

Question ID : 630680173325  
Status : Answered  
Chosen Option : C

Q.6 जनवरी 2023 के महीने में, निम्नलिखित में से किस ने राजस्थान के जयपुर में सरकारी स्वामित्व वाली ऊर्जा फर्म SJVN की 1,000 MW की बीकानेर सौर ऊर्जा परियोजना की आधारशिला रखी?

- Ans  A. अमित शाह  
 B. द्रौपदी मुर्मू  
 C. जगदीप धनखड़  
 D. नरेंद्र दामोदरदास मोदी

Question ID : 630680173322  
Status : Not Answered  
Chosen Option : --

Q.7 निम्नलिखित में से किस वर्ष में भारतीय ईसाई विवाह अधिनियम पारित किया गया था?

- Ans  A. 1874  
 B. 1872  
 C. 1873  
 D. 1875

Question ID : 630680173278  
Status : Not Answered  
Chosen Option : --

Q.8 पाश के माध्यम से गुजरने वाले विद्युत प्रवाह के लिए किसी संवृत पाश के चारों ओर एकीकृत चुंबकीय क्षेत्र से संबंधित नियम को \_\_\_\_\_ कहा जाता है।

- Ans  A. गॉस का नियम  
 B. कूलाम का नियम  
 C. ऐम्पियर का नियम  
 D. लेंज का नियम

INDIA

Question ID : 630680173329  
Status : Answered  
Chosen Option : A

Q.9 चक्रवाती तूफान आसानी (ASANI) का उद्गम स्थल किसमें था?

- Ans  A. हिंद महासागर  
 B. प्रशांत महासागर  
 C. अरब सागर  
 D. बंगाल की खाड़ी

Question ID : 630680173312  
Status : Answered  
Chosen Option : D

Q.10 500 वर्षीय पुराना सत्रीया नृत्य (Sattriya dance) भारत के निम्नलिखित में से किस भाग के वैष्णव मठों से आता है?

- Ans  A. पश्चिम  
 B. उत्तर-पूर्व  
 C. दक्षिण-पश्चिम  
 D. दक्षिण-पूर्व

Question ID : 630680173285  
Status : Answered  
Chosen Option : B

Q.11 वर्ल्ड बैंक की रिपोर्ट 2021 के अनुसार, सकल घरेलू उत्पाद (GDP) के मामले में भारत दुनिया का \_\_\_\_\_ सबसे बड़ा देश है।

- Ans  A. छठा  
 B. पांचवां  
 C. सातवां  
 D. आठवां

Question ID : 630680173259  
Status : Answered  
Chosen Option : A

Q.12 भारतीय रिजर्व बैंक के अनुसार, निम्नलिखित में से कौन सा अनुसूचित लघु वित्त बैंक नहीं है?

- Ans  A. उज्जीवन लघु वित्त बैंक लिमिटेड  
 B. शिवालिक लघु वित्त बैंक लिमिटेड  
 C. उत्कर्ष लघु वित्त बैंक लिमिटेड  
 D. जनता लघु वित्त बैंक लिमिटेड

INDIA

Question ID : 630680173301  
Status : Answered  
Chosen Option : D

Q.13 भारतीय संविधान का निम्नलिखित में से कौन सा अनुच्छेद एक भारतीय नागरिक को भारत के पूरे क्षेत्र में स्वतंत्र रूप से घूमने की स्वतंत्रता देता है?

- Ans  A. अनुच्छेद 19(1)(b)  
 B. अनुच्छेद 19(1)(d)  
 C. अनुच्छेद 19(1)(c)  
 D. अनुच्छेद 19(1)(a)

Question ID : 630680173337  
Status : Answered  
Chosen Option : B

Q.14 निम्नलिखित में से किस वर्ष में पंडित जसराज को पद्म विभूषण से सम्मानित किया गया था?

- Ans  A. 2000  
 B. 2002  
 C. 2001  
 D. 2003

Question ID : 630680173293  
Status : Not Answered  
Chosen Option : --

Q.15 निम्नलिखित में से कौन सा न्यायाधीश अल्पसंख्यक समुदाय का एकमात्र न्यायाधीश है जो अयोध्या मामले में सुप्रीम कोर्ट की पांच सदस्यीय खंडपीठ का हिस्सा था और जनवरी 2023 के महीने में सेवानिवृत्त हुआ था?

- Ans  A. न्यायमूर्ति एफ.एम.आई. कलीफुल्ला  
 B. न्यायमूर्ति अल्लमस कबीर  
 C. न्यायमूर्ति एम.वाई. इकबाल  
 D. न्यायमूर्ति एस. अब्दुल नजीर

Question ID : 630680173345  
Status : Answered  
Chosen Option : C

Q.16 निम्नलिखित में से किस वित्त मंत्री ने 1962 का स्वर्ण नियंत्रण अधिनियम पेश किया था, जिसने बैंकों द्वारा दिए गए सभी स्वर्ण ऋणों को वापस ले लिया था और स्वर्ण में वायदा कारोबार करने पर प्रतिबंध लगा दिया था?

- Ans  A. मोरारजी देसाई  
 B. सी. डी. देशमुख  
 C. टी.टी. कृष्णमाचारी  
 D. सचिंद्र चौधरी

INDIA

Question ID : 630680173275  
Status : Answered  
Chosen Option : A

Q.17 एक लाइफ राफ्ट, जो जहाज पर ले जाई जाने वाली एक छोटी, फुलाई जाने वाली, कठोर नाव होती है, आमतौर पर निम्नलिखित में से किस गैस द्वारा फुलाई या जाती है?

- Ans  A. C<sub>2</sub>H<sub>2</sub>  
 B. N<sub>2</sub>  
 C. CO<sub>2</sub>  
 D. H<sub>2</sub>O<sub>2</sub>

Question ID : 630680173334  
Status : Answered  
Chosen Option : D

Q.18 मुगल बादशाह की निम्नलिखित में से किस राजकुमारी ने ख्वाजा मोइनुद्दीन चिश्ती की जीवनी लिखी थी?

- Ans  A. बद्र-उन-निसा  
 B. जहांआरा  
 C. गुलबदन  
 D. बानू बेगम

Question ID : 630680173271  
Status : Answered  
Chosen Option : D

Q.19 भारतीय लघु उद्योग विकास बैंक अधिनियम निम्नलिखित में से किस वर्ष में पारित किया गया था?

- Ans  A. 1987  
 B. 1988  
 C. 1986  
 D. 1989

Question ID : 630680173305  
Status : Not Answered  
Chosen Option : --

Q.20 बजट 2022-23 के अनुसार, कोष PM गति शक्ति से संबंधित निवेशों में मदद करने के लिए 50 वर्ष के ब्याज मुक्त ऋण के रूप में राज्यों को कितना आवंटित धन दिया जाना है?

- Ans  A. ₹2.5 लाख करोड़  
 B. ₹1.5 लाख करोड़  
 C. ₹1 लाख करोड़  
 D. ₹2 लाख करोड़

INDIA

Question ID : 630680173297  
Status : Not Answered  
Chosen Option : --

Q.21 निम्नलिखित में से किराना घराने के/की किस गायक/गायिका को 2022 में पद्म विभूषण से सम्मानित किया गया था?

- Ans  A. प्रभा अत्रे  
 B. नागराज राव हवलदार  
 C. श्रीवानी जेड  
 D. मिलिंद चित्तल

Question ID : 630680173289  
Status : Answered  
Chosen Option : A

Q.22 सिंगालीला राष्ट्रीय उद्यान भारत के निम्नलिखित में से किस राज्य में स्थित है?

- Ans  A. नागालैंड  
 B. पश्चिम बंगाल  
 C. सिक्किम  
 D. अरुणाचल प्रदेश

Question ID : 630680173311  
Status : Answered  
Chosen Option : B

Q.23 हड़प्पा सभ्यता का प्राचीन शहर - धोलावीरा निम्नलिखित में से किस राज्य के शुष्क द्वीप पर स्थित है?

- Ans  A. गुजरात  
 B. कर्नाटक  
 C. ओड़िशा  
 D. महाराष्ट्र

Question ID : 630680173281  
Status : Answered  
Chosen Option : A

Q.24 2011 की जनगणना के अनुसार, निम्नलिखित में से कौन सा राज्य सबसे कम जनसंख्या वाला राज्य है?

- Ans  A. मेघालय  
 B. अरुणाचल प्रदेश  
 C. मिजोरम  
 D. सिक्किम

Question ID : 630680173318  
Status : Answered  
Chosen Option : D

Q.25 2022 में, अविनाश साबले को निम्नलिखित में से किस खेल के लिए अर्जुन पुरस्कार मिला?

- Ans  A. मल्लखंभ  
 B. लंबी बाधा दौड़ (स्टीपलचेज़)  
 C. चक्का फेंक (डिस्कस थ्रो)  
 D. तिकड़ी कूद

Question ID : 630680173267  
Status : Answered  
Chosen Option : C

Section : General Intelligence



Q.1 निम्नलिखित जानकारी को ध्यानपूर्वक पढ़िए और नीचे दिए गए प्रश्नों के उत्तर दीजिए:

'P & Q' का अर्थ है कि 'P Q का पुत्र है'।

'P @ Q' का अर्थ है कि 'P, Q का भाई है'।

'P % Q' का अर्थ है कि 'P, Q की बहन है'।

'P \$ Q' का अर्थ है कि 'P, Q की पुत्री है'।

'P # Q' का अर्थ है कि 'P, Q का पिता है'।

व्यंजक V & W # T @ X % Y \$ Z' में W, Z से किस प्रकार संबंधित है?

Ans  A. पिता

B. पति

C. भाई

D. पुत्र

Question ID : 630680173415

Status : Answered

Chosen Option : B

Q.2 किसी निश्चित कूट भाषा में, "LAND" को "LBPG" लिखा जाता है और "JEAN" को "JFCQ" लिखा जाता है। तो उस भाषा में "HOME" को कैसे लिखा जाएगा?

Ans  A. HQOG

B. HQNH

C. HPNG

D. HPOH

INDIA

Question ID : 630680173403

Status : Answered

Chosen Option : D

Q.3 सारा सोमवार से शुक्रवार तक पांच अलग-अलग दिनों में अपनी डांस की कक्षा जा रही है। वह हर दिन अलग-अलग डांस फॉर्म जैसे घूमर, हिप-हॉप, बेली, सालसा और कथक सीखती है लेकिन जरूरी नहीं कि इसी क्रम में सीखती हो। वह कथक की कक्षा और घूमर की कक्षा में लगातार दिनों में भाग लेती है जहां घूमर की कक्षा के तुरंत बाद सालसा की कक्षा होती है। सारा मंगलवार को कथक सीखती है। सालसा की कक्षा और हिप-हॉप की कक्षा के बीच दो दिनों का अंतर होता है। सारा निम्नलिखित में से किस दिन सालसा की कक्षा में भाग लेती है?

Ans  A. मंगलवार

B. सोमवार

C. बुधवार

D. गुरुवार

Question ID : 630680173379

Status : Answered

Chosen Option : D

Q.4 छह मित्र चारु, मनु, प्रकाश, परी, वरुण और विशाल एक घेरे में केंद्र की ओर अभिमुख होकर बैठे हैं। प्रकाश, परी के ठीक बाएं पड़ोस में बैठा है। विशाल और परी के बीच केवल वरुण है। चारु और वरुण के बीच केवल विशाल है। तो मनु के ठीक बाएं पड़ोस में कौन बैठा है?

- Ans
- ✓ A. चारु
  - ✗ B. विशाल
  - ✗ C. परी
  - ✗ D. प्रकाश

Question ID : 630680173368  
Status : Answered  
Chosen Option : A

Q.5 निम्नलिखित जानकारी का ध्यानपूर्वक अध्ययन करें और उसके नीचे दिए गए प्रश्न का उत्तर दें:

अक्षरों को प्रतीकों के रूप में कूटबद्ध किया गया है जैसा कि नीचे दर्शाया गया है:

अक्षर	V	G	L	R	N	A	M	O	E	T
कूट	?	£	€	#	@	¥	&	%	α	\$

शर्तें:

- यदि पहला और आखिरी अक्षर स्वर हैं, तो दोनों को पहले अक्षर के कूट द्वारा कूटबद्ध किया जाएगा।
- यदि पहला और अंतिम अक्षर व्यंजन हैं, तो दोनों को '=' के रूप में कूटबद्ध किया जाएगा।
- यदि पहला अक्षर एक व्यंजन है और अंतिम अक्षर एक स्वर है, तो दोनों को अंतिम अंक के कूट द्वारा कूटबद्ध किया जाएगा।
- यदि पहला अक्षर एक स्वर है और अंतिम अक्षर एक व्यंजन है, तो पहले और अंतिम अक्षर के कूट को आपस में बदला जाएगा।

'EAGER' का कूट क्या होगा?

- Ans
- ✗ A. #£¥αα
  - ✗ B. #α£¥α
  - ✓ C. #¥£αα
  - ✗ D. #¥£#α

Question ID : 630680173407  
Status : Answered  
Chosen Option : C

Q.6 एक कक्षा में, एक परीक्षा उत्तीर्ण करने वालों में राजू का स्थान ऊपर से सोलहवां और नीचे से उन्तालीसवां है। सात छात्र परीक्षा में शामिल नहीं हुए और दो अनुत्तीर्ण हो गए। तो कक्षा में विद्यार्थियों की कुल संख्या कितनी है?

- Ans
- ✓ A. 73
  - ✗ B. 70
  - ✗ C. 74
  - ✗ D. 65

Question ID : 630680173375  
Status : Answered  
Chosen Option : D

Q.7 दिए गए विकल्पों में से उस आकृति का चयन करें जो निम्नलिखित श्रृंखला में प्रश्नवाचक चिह्न (?) को प्रतिस्थापित कर सकती है।



Ans

A.



B.



C.



D.



Question ID : 630680173437

Status : Answered

Chosen Option : D

Q.8 यदि '@' का अर्थ 'x' है, '#' का अर्थ '-' है, '\$' का अर्थ '+' है और '%' का अर्थ '=' है, तो निम्नलिखित समीकरण में प्रश्नवाचक चिह्न (?) के स्थान पर क्या आएगा?

$$8 \$ 14 @ 5 \# 56 \% 7 = ?$$

Ans  A. 70

B. 80

C. 60

D. 90

Question ID : 630680173461

Status : Answered

Chosen Option : A

Q.9 दिए गए विकल्पों में से उस आकृति का चयन करें जो निम्नलिखित श्रृंखला में प्रश्नवाचक चिह्न (?) को प्रतिस्थापित कर सकती है।

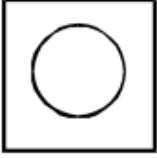


Ans

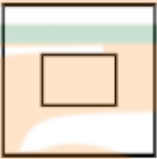
A.



B.



C.



D.



Question ID : 630680173433

Status : Answered

Chosen Option : D

Q.10 आठ मित्र A, B, C, D, E, F, G और H, में से प्रत्येक की लंबाई अलग-अलग है। A, F से लम्बा है लेकिन D से नाटा है। G, B से नाटा है लेकिन H से लम्बा है। E, B से लम्बा है। C, F से नाटा है लेकिन E से लम्बा है। इनमें से दूसरा सबसे लम्बा कौन है?

Ans  A. H

B. F

C. A

D. D

Question ID : 630680173387

Status : Answered

Chosen Option : C

Q.11 विकास ने रवि के चित्र को देखकर कहा, "मेरा कोई भाई या बहन नहीं है लेकिन रवि के पिता मेरे पिता के पुत्र हैं।  
विकास, रवि से किस प्रकार संबंधित है?

- Ans
- A. भाई
  - B. पति
  - C. पिता
  - D. पुत्र

Question ID : 630680173416  
Status : Answered  
Chosen Option : D

Q.12 उस संख्या की पहचान करें जो निम्नलिखित श्रृंखला से संबंधित नहीं है।

222, 223, 227, 236, 252, 277, 312

- Ans
- A. 252
  - B. 312
  - C. 277
  - D. 223

Question ID : 630680173452  
Status : Answered  
Chosen Option : B

Q.13 एक पैनल के पांच सदस्य D, E, F, G और H एक पंक्ति में बैठे हैं, लेकिन जरूरी नहीं कि इसी क्रम में हों। G ठीक उस E के पड़ोस में बैठा है, जो कि बाएं छोर पर बैठा है। D, F के ठीक पड़ोस में बैठा है। H, D के ठीक पड़ोस में नहीं है। यदि H ठीक G के पड़ोस में नहीं बैठा है तो F के ठीक बाएं पड़ोस में कौन बैठा है?

- Ans
- A. E
  - B. G
  - C. D
  - D. H

Question ID : 630680173371  
Status : Answered  
Chosen Option : C

Q.14 विकल्पों में दी गई संख्याओं में से कौन सी संख्या निम्न संख्यात्मक श्रृंखला में प्रश्नवाचक चिह्न (?) को प्रतिस्थापित करेगी?

211, 214, 219, 226, 235, ?

- Ans
- A. 247
  - B. 245
  - C. 246
  - D. 244

Question ID : 630680173448

Status : Answered

Chosen Option : C

Q.15 दिए गए कथनों और निष्कर्षों को ध्यानपूर्वक पढ़ें। यह मानते हुए कि कथनों में दी गई जानकारी सत्य है, भले ही यह सामान्य रूप से ज्ञात तथ्यों से भिन्न प्रतीत होती हो, तय करें कि दिए गए निष्कर्षों में से कौन सा/से निष्कर्ष कथनों का ताकिक रूप से अनुसरण करता है/करते हैं।

कथन:

1. सभी सेब, संतरे हैं।
2. कुछ संतरे, आम हैं।
3. सभी आम, पीले हैं।

निष्कर्ष:

- I. कुछ सेब, आम हैं।
- II. कुछ संतरे, पीले हैं।

- Ans
- A. केवल निष्कर्ष I अनुसरण करता है।
  - B. निष्कर्ष I और निष्कर्ष II दोनों अनुसरण करते हैं।
  - C. या तो निष्कर्ष I अनुसरण करता है या निष्कर्ष II अनुसरण करता है।
  - D. केवल निष्कर्ष II अनुसरण करता है।

Question ID : 630680173382

Status : Answered

Chosen Option : D

Q.16 चार अक्षर दिए गए हैं, जिनमें से तीन किसी प्रकार से एकसमान हैं और एक असंगत है। उस असंगत अक्षर का चयन करें।

- Ans
- A. SATURDAY
  - B. TUESDAY
  - C. THURSDAY
  - D. MONDAY

Question ID : 630680173426

Status : Answered

Chosen Option : C

Q.17 चार शब्द-युग्म दिए गए हैं, जिनमें से तीन किसी प्रकार से एकसमान हैं और एक असंगत है। उस असंगत शब्द-युग्म का चयन करें।

Ans

- ✓ A. डॉक्टर : मरीज  
✗ B. दर्जी : सुई  
✗ C. लेखक : कलम  
✗ D. शेफ : चाकू

Question ID : 630680173430  
Status : Answered  
Chosen Option : D

Q.18 उस विकल्प का चयन करें जो तीसरे शब्द से उसी प्रकार संबंधित है जैसे दूसरा शब्द पहले शब्द से संबंधित है।

PARK : 16011811 :: SELF : ?

Ans

- ✗ A. 18051205  
✗ B. 19051105  
✓ C. 19051206  
✗ D. 18051106

Question ID : 630680173420  
Status : Answered  
Chosen Option : C

Q.19 दिए गए विकल्पों में से उस अक्षर-समूह का चयन करें, जो निम्नलिखित श्रृंखला में प्रश्नवाचक चिन्ह (?) को प्रतिस्थापित कर सकता है।

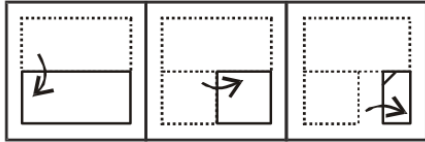
KYF, NUK, ? , TMU, WIZ

Ans

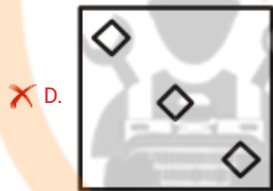
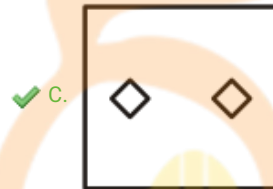
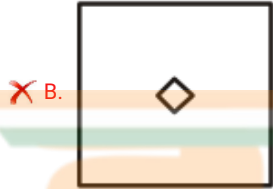
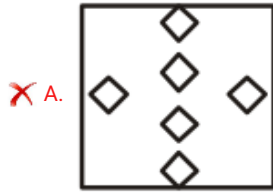
- ✗ A. QPP  
✓ B. QQP  
✗ C. QQQ  
✗ D. PPP

Question ID : 630680173391  
Status : Answered  
Chosen Option : C

Q.20 निम्न आकृतियों में कागज के एक टुकड़े को मोड़ने का क्रम और मोड़े गए कागज को काटने की विधि को दिखाया गया है। खोलने पर यह कागज कैसा दिखेगा?



Ans



INDIA

Question ID : 630680173444

Status : Answered

Chosen Option : C

Q.21 यदि E का अर्थ '+' है, F का अर्थ '-' है, G का अर्थ 'x' है, H का अर्थ '÷' है, तो निम्नलिखित समीकरण में प्रश्नवाचक चिह्न (?) के स्थान पर क्या आएगा?

$$16 G 8 E 17 F 52 H 13 = ?$$

Ans ✗ A. 161

✓ B. 141

✗ C. 171

✗ D. 151

Question ID : 630680173462

Status : Answered

Chosen Option : B



Q.22 यदि शब्द 'OUTSCREAMING' के अक्षरों को अंग्रेजी वर्णमाला के अनुसार पुनर्व्यवस्थित किया जाता है, तो पुनर्व्यवस्था के बाद कितने अक्षरों की स्थिति अपरिवर्तित रहेगी?

- Ans
- A. तीन
  - B. एक
  - C. शून्य
  - D. दो

Question ID : 630680173394

Status : Answered

Chosen Option : C

Q.23 निम्नलिखित बाएं से दाएं संख्या क्रम में ऐसे कितने अंक '4' हैं, जिनमें से प्रत्येक के तुरंत बाद एक सम संख्या है और ठीक पहले एक विषम संख्या है?

(बाएं) 7 0 2 5 6 4 7 4 3 1 6 9 8 9 6 4 9 8 0 2 5 0 4 1 4 8 2 7 3 4 6 (दाएं)

(नोट- प्रत्येक संख्या एक अंक की संख्या है)

- Ans
- A. दो
  - B. तीन
  - C. एक
  - D. चार

Question ID : 630680173397

Status : Answered

Chosen Option : A

Q.24 विकास पूर्व की ओर चलना शुरू करता है। 2 km चलने के बाद वह बाएं मुड़ता है। 5 km चलने के बाद वह फिर से बाईं ओर मुड़ता है। तो अब वह किस दिशा की ओर अभिमुख है?

- Ans
- A. उत्तर
  - B. पूर्व
  - C. पश्चिम
  - D. दक्षिण

Question ID : 630680173412

Status : Answered

Chosen Option : C

Q.25 नीचे प्रश्न आकृति में दिए गए कट-पीसों से चार विकल्प आकृतियों में से कौन-सी आकृति बनाई जा सकती है?



Ans



Question ID : 630680173445

Status : Answered

Chosen Option : A

Section : Quantitative Aptitude

Q.1 यदि  $x * y = x + y - \sqrt{xy}$  है, तो  $32 * 8 = ?$

Ans ✗ A. 40

✗ B. 16

✓ C. 24

✗ D. 32

Question ID : 630680173151

Status : Answered

Chosen Option : A

Q.2 यदि त्रिज्यखंड का कोण  $90^\circ$  और त्रिज्या 6 cm है, तो त्रिज्यखंड का क्षेत्रफल ज्ञात कीजिए।

Ans ✗ A.  $36 \text{ cm}^2$

✗ B.  $24 \text{ cm}^2$

✗ C.  $9 \text{ cm}^2$

✓ D.  $9\pi \text{ cm}^2$

Question ID : 630680173242

Status : Answered

Chosen Option : A

Q.3 यदि एक समबाहु त्रिभुज का क्षेत्रफल  $\frac{\sqrt{3}}{2} 84.5 \text{ cm}^2$  है, तो प्रत्येक भुजा की लंबाई ज्ञात कीजिए।

- Ans
- A. 12 cm
  - B. 10 cm
  - C. 13 cm
  - D. 11 cm

Question ID : 630680173237

Status : Answered

Chosen Option : C

Q.4 निम्न तालिका का ध्यानपूर्वक अध्ययन करें और उसके बाद दिए गए प्रश्नों के उत्तर दें।

जनवरी से जून के महीने के दौरान एक दुकानदार द्वारा कंपनी A और B के बेचे गए मोबाइल फोन की संख्या।

महीना	जनवरी	फरवरी	मार्च	अप्रैल	मई	जून
प्रतिशतवार	18%	22%	15%	20%	15%	10%
अनुपात (A : B)	5 : 4	4 : 5	2 : 3	1 : 2	5 : 7	4 : 6

जनवरी के दौरान कंपनी B द्वारा बेचे गए मोबाइल फोन की संख्या का, उसी कंपनी के द्वारा जून के दौरान बेचे गए मोबाइल फोन की संख्या से अनुपात कितना है?

- Ans
- A. 1 : 4
  - B. 4 : 3
  - C. 4 : 1
  - D. 3 : 4

Question ID : 630680173219

Status : Answered

Chosen Option : B

Q.5 यदि दिनेश और प्रतीक एक कार्य को 20 दिनों में पूरा कर सकते हैं, प्रतीक और प्रेम उसी कार्य को 30 दिनों में पूरा कर सकते हैं जबकि प्रेम और दिनेश उसी कार्य को 15 दिनों में पूरा कर सकते हैं, तो प्रेम अकेला उस कार्य को कितने दिनों में पूरा कर सकता है?

- Ans
- A. 36
  - B. 40
  - C. 45
  - D. 50

Question ID : 630680173209

Status : Not Answered

Chosen Option : --

Q.6 एक शहर में, जनसंख्या में 12% की वृद्धि होती है। कोविड (COVID) जैसे वायरस के कारण इसमें 12% की कमी आती है। यदि वर्तमान में शहर की जनसंख्या 295680 है, तो शहर की प्रारंभिक जनसंख्या \_\_\_\_\_ है।

- Ans
- A. 300000
  - B. 280000
  - C. 320000
  - D. 313000

Question ID : 630680173171  
Status : Answered  
Chosen Option : A

Q.7 सरल कीजिए:

$$\frac{(0.8)^4 - (0.4)^4}{(0.8)^2 + (0.4)^2} = ?$$

- Ans
- A. 0.64
  - B. 0.48
  - C. 0.16
  - D. 0.36

Question ID : 630680173153  
Status : Answered  
Chosen Option : B

Q.8 एक व्यक्ति कुल 152 km की दूरी साइकिल से तय करता है। पहले 4 h के लिए, उसकी चाल 18 km/h थी और शेष यात्रा के लिए, यह घटकर 16 km/h हो गई। उसकी औसत चाल \_\_\_\_\_ होगी।

- Ans
- A.  $16\frac{4}{9}$  km/h
  - B.  $16\frac{7}{9}$  km/h
  - C.  $16\frac{2}{9}$  km/h
  - D.  $16\frac{8}{9}$  km/h

Question ID : 630680173203  
Status : Answered  
Chosen Option : D

Q.9 एक आदमी 52 km/h की औसत चाल से यात्रा करता है। यदि वह 84 km की दूरी 42 km/h की चाल से तय करता है और शेष दूरी 65 km/h की चाल से तय करता है, तो उसके द्वारा तय की गई कुल दूरी \_\_\_\_\_ है।

- Ans
- A. 156 km
  - B. 184 km
  - C. 100 km
  - D. 164 km

Question ID : 630680173165  
Status : Not Answered  
Chosen Option : --

Q.10 P, Q और R तीन ऐसी संख्याएँ हैं जिनका अनुपात 15 : 17 : 20 है। यदि इन संख्याओं का योग 3640 है, तो Q और P के बीच के अंतर तथा R और Q के बीच के अंतर का अनुपात क्या है?

- Ans
- A. 3 : 5
  - B. 3 : 4
  - C. 2 : 5
  - D. 2 : 3

Question ID : 630680173187  
Status : Answered  
Chosen Option : D

Q.11 P और Q एक कार्य को क्रमशः 14 दिन और 21 दिन में पूरा कर सकते हैं। उन्होंने काम करना शुरू किया लेकिन 4 दिनों के बाद P को काम छोड़ना पड़ा और Q ने अकेले ही शेष काम पूरा कर लिया। पूरा काम कितने दिनों में पूरा हुआ?

- Ans
- A. 14
  - B. 12
  - C. 15
  - D. 11

Question ID : 630680173212  
Status : Not Answered  
Chosen Option : --

Q.12 उस त्रिभुज का क्षेत्रफल ज्ञात कीजिए जिसकी भुजाएँ 8 cm, 15 cm, 17 cm हैं।

- Ans
- A.  $58 \text{ cm}^2$
  - B.  $60 \text{ cm}^2$
  - C.  $63 \text{ cm}^2$
  - D.  $50 \text{ cm}^2$

Question ID : 630680173235  
Status : Answered  
Chosen Option : B

Q.13 दो स्टेशन A और B एक सीधी लाइन पर 275 km की दूरी पर हैं। एक रेलगाड़ी सुबह 6:00 बजे A से शुरू होती है और 50 km/h की चाल से यात्रा करती है। दूसरी रेलगाड़ी B से सुबह 7:00 बजे चलती है और A की ओर 62.5 km/h की चाल से यात्रा करती है। वे किस समय मिलेंगी?

- Ans
- A. 10:00 A.M
  - B. 11:00 A.M
  - C. 08:00 A.M
  - D. 09:00 A.M

Question ID : 630680173205  
Status : Answered  
Chosen Option : B

Q.14 ₹2,400 के लिए 14% ब्याज दर पर n वर्ष का साधारण ब्याज और ₹2,800 के लिए 8% ब्याज दर पर 3 और वर्षों के साधारण ब्याज का क्रमशः 8 : 7 है। n का मान क्या है?

- Ans
- A. 9.6
  - B. 8.5
  - C. 7.9
  - D. 10.1

Question ID : 630680173194  
Status : Answered  
Chosen Option : B

Q.15 एक अभ्यर्थी एक परीक्षा उत्तीर्ण करने के लिए निर्धारित न्यूनतम अंकों से 21 अंक कम पाने के कारण अनुत्तीर्ण हो गया, जबकि दूसरे अभ्यर्थी ने निर्धारित न्यूनतम आवश्यक अंकों से 147 अंक अधिक प्राप्त किए। यदि दोनों अभ्यर्थियों द्वारा प्राप्त प्रतिशत में अंतर 40% है, तो कथित परीक्षा में अधिकतम कितने अंक प्राप्त किए जा सकते हैं?

- Ans
- A. 420
  - B. 400
  - C. 380
  - D. 360

Question ID : 630680173174  
Status : Answered  
Chosen Option : A

Q.16 यदि किसी भिन्न के हर को 2 से गुणा कर दिया जाए और अंश को 2 बढ़ा दिया जाए तो वह भिन्न  $\frac{1}{2}$  हो जाती है। यदि इसके बजाय, अंश को 2 से गुणा किया जाता है और हर को 2 बढ़ा दिया जाता है, तो यह  $\frac{6}{7}$  हो जाता है। मूल भिन्न के अंश और हर (न्यूनतम रूप में) का योग क्या है?

- Ans
- A. 6
  - B. 8
  - C. 11
  - D. 7

Question ID : 630680173231  
Status : Not Answered  
Chosen Option : --

Q.17 यदि किसी त्रिभुज के लंबकेन्द्र और केन्द्रक के निर्देशांक (6, -1) और (4, 1) हैं, तो उस बिंदु के निर्देशांक, जो त्रिभुज के शीर्षों से समदूरस्थ \_\_\_\_\_ हैं।

- Ans
- A. (-3, 2)
  - B. (3, 2)
  - C. (2, 3)
  - D. (2, -3)

Question ID : 630680173244

Status : Not Answered

Chosen Option : --

Q.18 निम्न बार ग्राफ का अध्ययन करें और प्रश्न का उत्तर दें:



2018 में राज्य B के लिए फसल की उपज, राज्य C के लिए फसल की औसत उपज से कितने प्रतिशत कम है? (लगभग)

- Ans
- A. 16
  - B. 14
  - C. 15
  - D. 17

Question ID : 630680173223

Status : Not Answered

Chosen Option : --

Q.19 ₹20,000 के लिए अर्धवार्षिक रूप से चक्रवृद्धि की जाने वाली 10% वार्षिक चक्रवृद्धि ब्याज दर पर 1½ वर्ष का चक्रवृद्धि ब्याज ज्ञात कीजिए।

- Ans
- A. ₹ 3,251.5
  - B. ₹ 3,352.5
  - C. ₹ 3,252.5
  - D. ₹ 3,152.5

Question ID : 630680173199

Status : Answered

Chosen Option : D

Q.20 एक वस्तु ₹650 के अंकित मूल्य पर 8% और 12% की लगातार दो छूट देने के बाद बेची गई। यदि उसे 60% का लाभ होता है तो वस्तु का क्रय मूल्य ज्ञात कीजिए।

- Ans
- A. ₹332.9
  - B. ₹326.9
  - C. ₹328.9
  - D. ₹330.9

Question ID : 630680173181  
Status : Not Answered  
Chosen Option : --

Q.21 कंपनी ABC में 4 कर्मचारी लॉरेज, मार्क, जेसन और तान्या हैं। मार्क और जेसन की मासिक आय का अनुपात क्रमशः 5 : 6 है, और तान्या और जेसन की मासिक आय का अनुपात क्रमशः 4 : 3 है। लॉरेज की मासिक आय शेष सभी 3 कर्मचारियों की कुल मासिक आय की दोगुनी है। यदि लॉरेज की मासिक आय 26600 है, तो शेष 3 कर्मचारियों में से उच्चतम मासिक आय कितनी है?

- Ans
- A. 5400
  - B. 5500
  - C. 5600
  - D. 4600

Question ID : 630680173189  
Status : Not Answered  
Chosen Option : --

Q.22 यदि  $a + b = \sqrt{12}$  और  $a - b = \sqrt{8}$  है, तो  $a^4 + b^4 = ?$

- Ans
- A. 94
  - B. 96
  - C. 95
  - D. 98

Question ID : 630680173226  
Status : Not Answered  
Chosen Option : --

Q.23 मान लीजिए  $x$  एक ऐसी 5 अंकों की सबसे छोटी संख्या है जिसे 12, 16, 35 और 42 से भाग देने पर शेषफल क्रमशः 5, 9, 28 और 35 प्राप्त होता है।  $x$  के अंकों का योगफल कितना है?

- Ans
- A. 12
  - B. 13
  - C. 10
  - D. 11

Question ID : 630680173157  
Status : Not Answered  
Chosen Option : --



Q.24 यदि 18 वस्तुओं का विक्रय मूल्य, 21 वस्तुओं के क्रय मूल्य के बराबर है, तो हानि या लाभ प्रतिशत ज्ञात कीजिए।

Ans

✗ A.  $16\frac{2}{3}\%$  हानि

✗ B.  $14\frac{2}{7}\%$  लाभ

✓ C.  $16\frac{2}{3}\%$  लाभ

✗ D.  $14\frac{2}{7}\%$  हानि

Question ID : 630680173178

Status : Answered

Chosen Option : C

Q.25 एक व्यक्ति 5 घंटे में 165 km की दूरी तय करता है। यदि पहले 100 km के लिए उसकी चाल 50 km/h है, तो शेष दूरी के लिए चाल कितनी है?

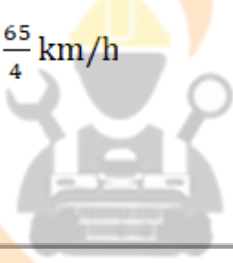
Ans

✓ A.  $\frac{65}{3}$  km/h

✗ B.  $\frac{65}{6}$  km/h

✗ C.  $\frac{65}{9}$  km/h

✗ D.  $\frac{65}{4}$  km/h



Question ID : 630680173163

Status : Not Answered

Chosen Option : --